

**Examenul de bacalaureat național 2014**  
**Proba E. d)**  
**Geografie**

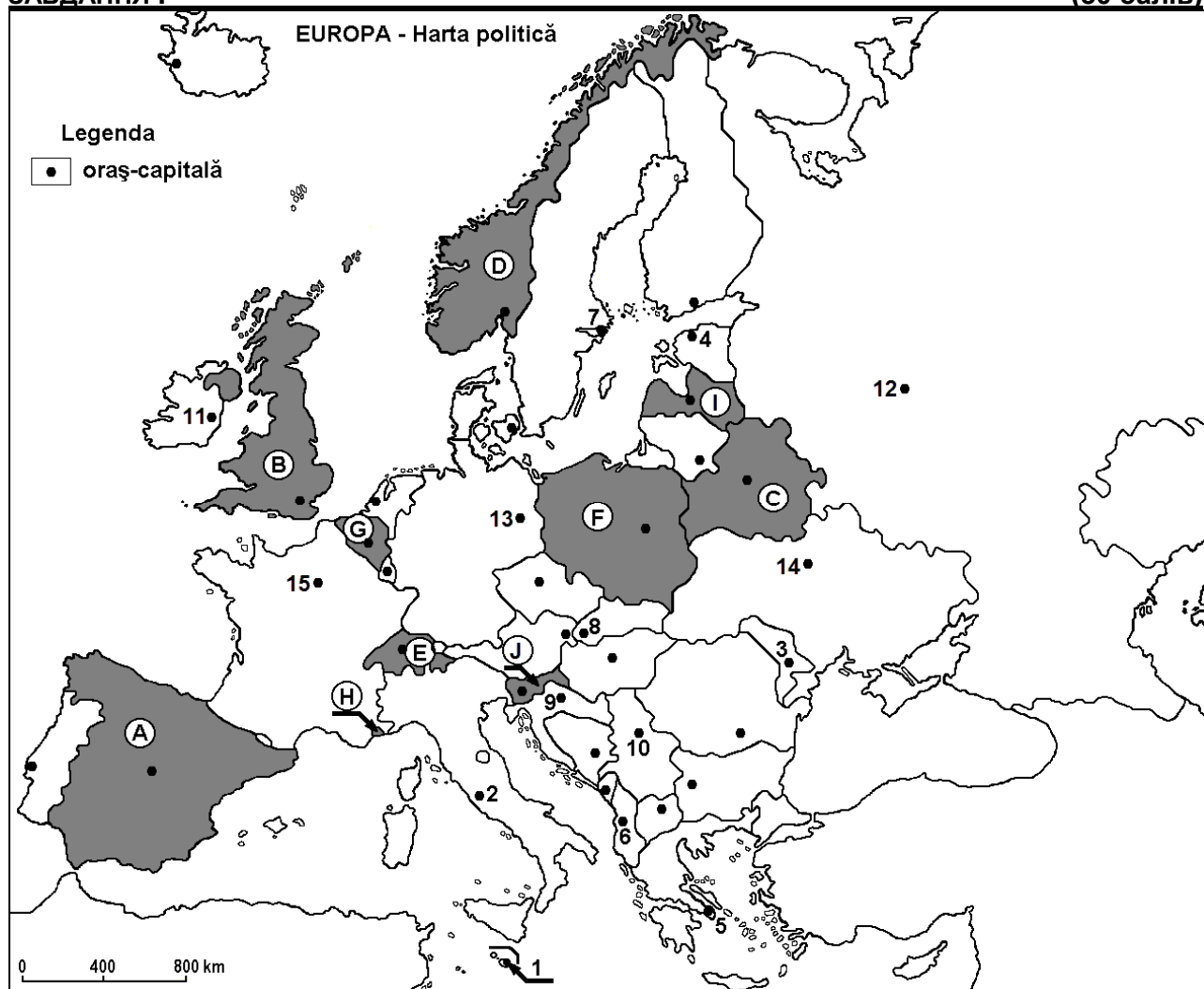
**Varianta 10**

*Filiera teoretică, profilul umanist, specializările: filologie, științe sociale; filiera tehnologică, profilul servicii, toate specializările; Filiera vocațională: profil artistic, specializările: muzică, coregrafie, arta actorului, arhitectură, arte ambientale și design, arte plastice, arte decorative; profil sportiv, toate specializările; profil pedagogic, specializările: învățător/educatoare, bibliotecar-documentarist, instructor-animator, instructor pentru activitățile extrașcolare, pedagog școlar; profil ordine și securitate publică (Licee ale Ministerului Administrației și Internelor) specializarea științe sociale; profil teologic, toate specializările.*

- Toate subiectele sunt obligatorii. Se acordă 10 puncte din oficiu.
- Timpul de lucru efectiv este de 3 ore.

**ЗАВДАННЯ I**

**(30 балів)**



Вище подана карта відноситься до завдання I A – E. На карті позначені буквами держави аз цифрами столиці

**A.** Уточніть

1. назву держави що позначена на карті буквою F;
2. назву столиці що позначена на карті числом 12.

**4 бали**

**B.** Запишіть на іспитному листку правильні відповіді що доповнюють твердження з низу

1. Столиця Естонії це місто позначене на карті цифрою ...
2. Держава енклава Ватикан розташована на території столиці що позначена на карті цифрою ...

3. Держава позначена на карті буквою Е називається... **6 балів**

**C. Запишіть на іспитному листку відповідну букву правильної відповіді для кожних з тверджень з низу**

1. Гори утворені в каледонському періоді знаходяться на території держави що позначена на карті буквою

a. В                                      b. С                                      c. F                                      d. I                                      **2 бали**

2. Місто позначене на карті числом 11 називається

a. Бельфаст                              b. Дублін                              c. Глазгов                              d. Рейкявік                              **2 бали**

3. Ріка Дунай проходить через столицю яка позначена на карті цифрами

a. 6 і 10                                      b. 8 і 9                                      c. 8 і 10                                      d. 9 і 10                                      **2 бали**

4. Держава позначена на карті буквою Н називається

a. Андора                                      b. Мальта                                      c. Монако                                      d. Сан Марино                              **2 бали**

5. Любляна столиця держави що позначена на карті буквою:

a. С                                      b. E                                      c. I                                      d. J                                      **2 бали**

**D.** Уточніть три відмінності між кліматом держави позначеної на карті буквою А та кліматом держави позначеної на карті буквою D.

*Замітка 1 Відмінності можуть відноситися до будь яких з наступних кліматичних елементів: генетичних факторів, типу клімату, середньо річних температур/літних/зимових, термічної амплітуди середньо річних опадів/літних/зимових, потужних вітрів.*

*Замітка 2 Певна оцінка надається якщо відмінності є представлені порівняно а не окремот.*

**6 балів**

**E. 1.** Уточніть два елементи щоб довести те що столиця позначена на карті числом 15 представляє одну з найбільших митрополітичів та за культурною та артистичною функцією

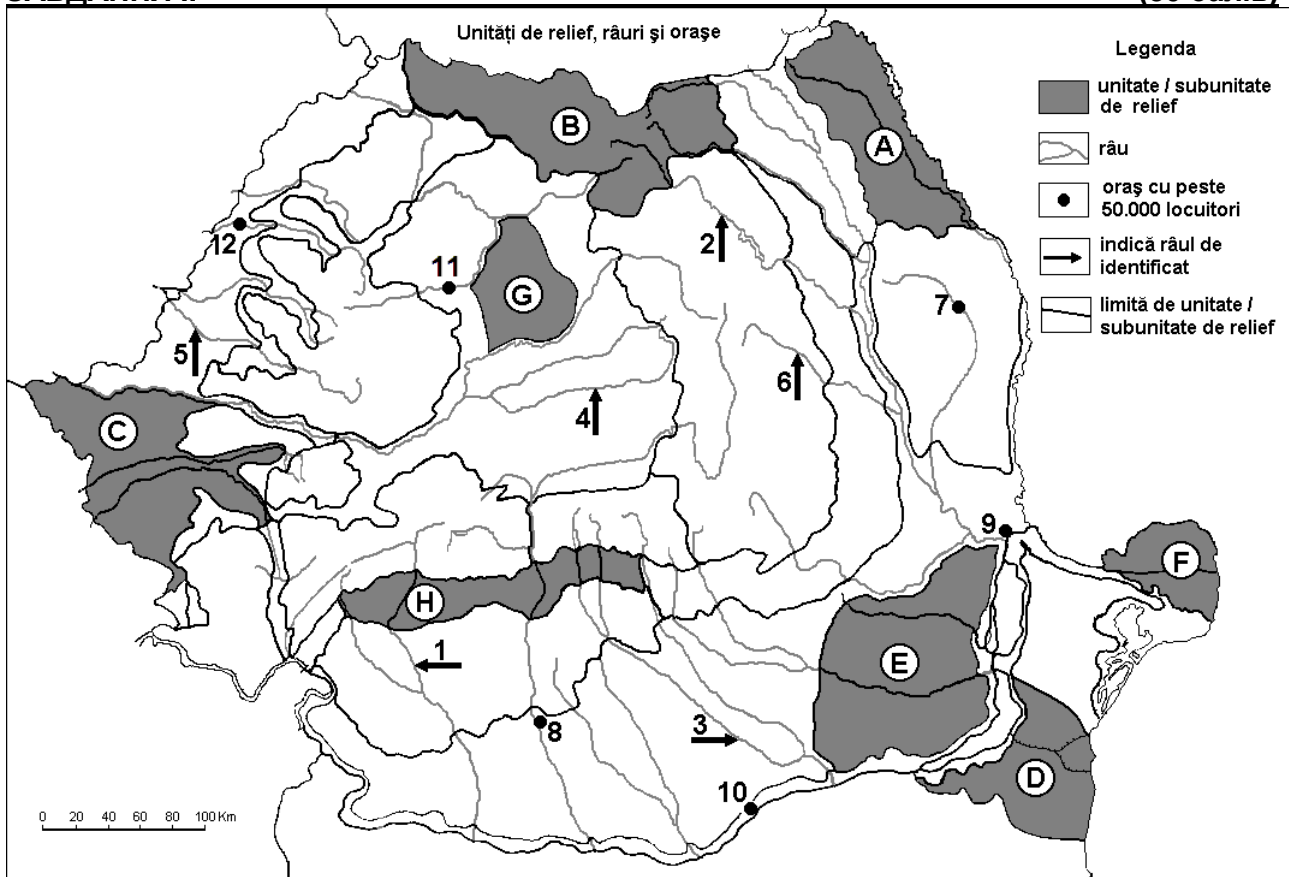
**2 бали**

**2.** Уточніть те що держава позначена на карті буквою D отримує понад 90% електричного струму з гідроенергії

**2 бали**

## ЗАВДАННЯ II-

**(30 балів)**



Вище подана карта відноситься до завдання II А – D. На карі буквами позначені одиниці рельєфу, цифрами від 1 до 6 річки а від 7 до12. міста

**A. Уточніть**

1. назву міста що позначене на карті числом 12;
  2. назву річки що позначена на карті цифрою 2 .
- 4 бали**

**B. Запишіть на іспитному листку правельні відповіді які доповнюють тверження з низу**

1. Рівнина Жижія позначена на карті буквою ...
  2. Пагорби це специфічні форми у одиниці рельєфу, що позначена на карті буквою ...
  3. Річка Тротуш позначенч на карті цифрою1 ...
- 6 балів**

**C. Запишіть на іспитному листку відповідну букву правильної відповіді для кожних з тверджень з низу**

1. Вугілля, нафта та природний газ видобуваються з одиниці рельєфу що позначена на карті буквою  
a. A                                      b. B                                      c. D                                      d. H                                      **2 бали**
2. Металургійний комбінат знаходиться у місті позначеномиу на карті цифрою  
a. 7                                      b. 9                                      c. 10                                      d. 11                                      **2 бали**
3. Чорноморські кліматичні впливи проникають до одиниці рельєфу що позначена на карті  
a. A                                      b. C                                      c. D                                      d. G                                      **2 бали**
4. Річка що позначена на карті цифрою 3 проходить через місто  
a. Александрія (Alexandria)                                      b. Пітешть (Pitești)  
c. Плоєшть(Ploiești)                                      d.Тирговіште (Târgoviște)                                      **2 бали**
5. Річка позначена на карті цифрою 5 називається  
a. Бега                                      b. Крішул Алб                                      c. Крішул Нигру                                      d. Крішул Репеде                                      **2 бали**

**D. Уточніть три відмінності між рельєфом одиниці позначеною на карті буквою В та рельєфом одиниці позначеноюї на карті буквою și relieful G.**

*Замітка1 Відмінності можуть відносити до будь яких з наступних аспектів рельєфу: Способу утворення, типи гірських порід з яких утворений рельєф ,висоти, ступень розчленування ,генетичнихтипів рельєфу ,орієнтування гірських вершин та основних долин ,розташовування улоговин, інших аспектів рельєфу.*

*Замітка2 Повна оцінка надається лише тоді якщо три відмінності є представлені порівняно а не оуремот.*

**6 балів**

**E. Представте два фактори які впливають територіалне розпосудження населення Румунії.**

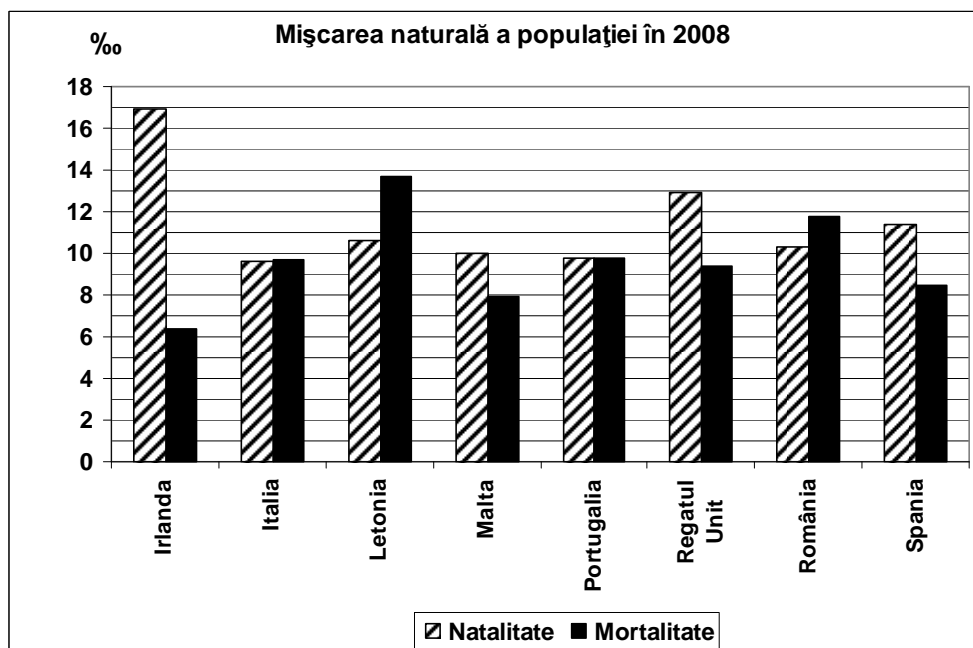
**4 балів**

**ЗАВДАННЯ III-**

**(30 балів)**

Нижче подане графічне зображення відноситься до завдання III А – В і представляє показники народжуваності та смертності у деяких європейських державах в 2008, висловлені на тисячу (‰) осіб.

Sursa: Institutul Național de Statistică, Anuarul Statistic 2009 – estimări la nivelul anului 2008



**A. Уточніть:**

1. Державу де зареєстровано найбільшу народжуваність (в ‰) та її значення
2. Державу де зареєстровано найбільшу смертність (на ‰) та її значення.

**4 бали**

**B. Уточніть**

1. значення природного приросту населення Румунії.
2. державу з найбільшим природним приростом населення.
3. значення природного приросту населення Португалії.

**6 балів**

**C. Для Австрії уточніть**

1. назву трьох сусідніх держав, які є члинами Європейського Союзу;
2. назву однієї сусідньої держави, яка є члином Європейського Союзу;
3. назву двох одиниць рельєфу;
4. назву однієї річки;
5. зону рослинності;
6. назву двох міст.

**10 балів**

**D. Нижче подана таблиця представляє розвиток населення в двох європейських державах**

Держава	1960	1990	2012
Румунія	18.319.200	23.211.400	21.355.800
Іспанія	30.327.000	38.826.300	46.196.300

Sursa: Eurostat Pocketbooks; European social statistics – 2013 edition

1. Обчисліть на скільки зменшилося чисельність населення Румунії за періоді 1990 – 2012 рр.
2. Обчисліть на скільки зросло чисельність населення Іспанії за період 1960 – 2012 рр.
3. Представте одну причину, що пояснює розвиток населення Румунії за період 1990 – 2012 рр.

**6 балів**

**E.** У Європейському Союзі, виробництво електроенергії отриманої з відновлюваних енергетичних ресурсів зросло на 51% у 2011р, відносно до 2001р. Представте дві відновлювані енергетичні ресурси використовувані в межах Європейського Союзу та вигоди їх використання.

**4 бали**